

**“ЭКОНОМИКСИЙН ЦАГААН ТОЛГОЙГ ХЭН САЙН МЭДЭХ ВЭ”
УЛСЫН XV ОЛИМПИАД**

НЭГДҮГЭЭР ШАТ

2019-05-04

ХУГАЦАА 90 МИНУТ

1. Аль нь микроэкономиксийн судлах зүйлийг хамгийн оновчтой тодорхойлж байна вэ?
 - a. Өгөгдсөн нөхцөл байдал доонончтой сонголт хийх
 - b. Нөөцийн хомс байдал дөрхүүд болон пүүсүүд сайн сайхан байдалаа хамгийн өндөр байлгах сонголтыг хэрхэн хийх
 - c. Боломжит хувилбаруудад (tradeoff) шинжилгээ хийх
 - d. Дээрх бүгд
2. Микроэкономиксийн суурь үндэсний нөхцөл (assumptions) юу вэ?
 - a. Үйлдвэрлэгч үйлдвэрлэлийн хэмжээгээ хамгийн их байлгадаг
 - b. Өрхгэрханамаа, үйлдвэрлэгч ашаа хамгийн их байлгадаг
 - c. Үйлдвэрлэгч борлуулалтаа хамгийн их байлгадаг
 - d. Өрхгэр орлогоо хамгийн их байлгадаг
3. Эдийн засгийн онолын болон эмпирик судалгааны ялгаа юу вэ?
 - a. Онолын судалгаа нь загвар боловсруулдаг, эмпирик судалгаа нь загварыг шалгадаг
 - b. Онолын судалгаа нь урт хугацааны үзэгдлийг, эмпирик судалгаа нь богино хугацааны үзэгдлийг судлан шинжилдэг
 - c. Онолын судалгаа нь загварыг шалгадаг, эмпирик судалгаа нь загвар боловсруулдаг
 - d. Онолын судалгаа нь өрхгэрийн үйлхөдлөлийг, эмпирик судалгаа нь үйлдвэрлэгчийн үйлхөдлөлийг судалдаг
4. Дараах мэдэгдлийн аль нь норматив экономикст хамаарах вэ?
 - a. Эрхтэншилжүүлэн суулгах эмчилгээний эрэлтний лүүлэлтээс эдэвсан байна
 - b. Усны нийлүүлэлт их байдаг тул үнэ нь хямд байна
 - c. Малын хөлийн татвар өндөр байх хэрэгтэй
 - d. Инфляцийн түвшин сүүлийн гурван жилийн дунджаас доогуур байна
5. Нөөцийн хомс байдал (scarcity) гэж ямар гүнхэлэх вэ?
 - a. Мөнгөн хөрөнгөө олдоц багатай байдал
 - b. Хүмүүсийн хэрэгцээг байгаан өөцөөр бүрэн хангах боломжгүй байдал
 - c. Буурай хөгжилтэй орнуудын түгээмэл нөхцөл байдал
 - d. Хүчин зүйлийн зах зээлд эрх хомсдол үүсэх нөхцөл
6. Оюутан амралтын өдөр цагийн ажил хийж 50000 төгрөг олох санал авчээ. Тэрээр ажил хийхгүйгээр шийдэж, оронд нь 10000 төгрөг өөр кино үзсэн байна. Алдагдсан боломжийн зардал хэд вэ?
 - a. 50000 төгрөг
 - b. 60000 төгрөг
 - c. 40000 төгрөг
 - d. 10000 төгрөг
7. Эдийн засгийн нурашигтай үйлдвэрлэлийн хэмжээн үйлдвэрлэлийн боломжийн хязгаарын муруйн хаана орших вэ?
 - a. Муруйн баруунд эдхэсэгт
 - b. Муруйн доторх дурын цэг дээр
 - c. Муруйд ээрх дурын цэг дээр
 - d. Муруйн гаднах дурын цэг дээр
8. Үйлдвэрлэлийн боломжийн хязгаарын муруй юуг харуулах вэ?
 - a. Хэрэгцээний хязгааргүй байдлыг
 - b. Нөөцийн хомс байдал дхйх сонголтын олонлогийг
 - c. Орлого хуваарилалтыг
 - d. Дээрхийн аль нь ч биш
9. Пүүсийн хэлбэрт дараахын аль нь хамаарах вэ?
 - a. Нөхөрлөл
 - b. Холбоо
 - c. Компани
 - d. Хувьцаат компани
10. Зах зээлийн эрэлтийн функц $Q_D = 3000 - p$, нийлүүлэлтийн функц $Q_S = 3p - 600$ гэж өгөгджээ. Засгийн газар бүтээгдэхүүний нэгж бүрт 400 төгрөгийн татвар оноосон бол үйлдвэрлэгч хэрэглэгчийн татварын ачааллыг ол.
 - a. Үйлдвэрлэгчийнх 120, хэрэглэгчийнх 280
 - b. Үйлдвэрлэгчийнх 100, хэрэглэгчийнх 300
 - c. Үйлдвэрлэгчийнх 280, хэрэглэгчийнх 120
 - d. Үйлдвэрлэгчийнх 300, хэрэглэгчийнх 100
11. “Urban Jeans” компани 20 ажилчин, 8 капиталтайгаар өдөрт 100 ширхэг жийнсэн өмд үйлдвэрлэдэг байв. Зах зээлийн эрэлт огцом нэмэгдэж байгаатай холбогдуулан компанийн ТУЗ-өөс өдөрт үйлдвэрлэх бүтээгдэхүүний хэмжээг 2 дахин өсгөх шийдвэр гаргав. ТУЗ-ийн шийдвэртэй холбогдуулан гүйцэтгэх захирал компанийн эдийн засагчид хэдэн ажилчин хэдэн капитал нэмж авах шаардлагатайг тооцоолох үүрэг өгөв. Ажилчны тоог нэмэгдүүлснээр хөдөлмөрийн бүтээмж 60 хувиар өсөх тооцооллыг эдийн засагч хийсэн бол компани хичнээн ажилчинтай болох вэ ?
 - a. 25
 - b. 30
 - c. 40
 - d. 45

12. Зах зээлийн эрэлтийн функц $Q_D = 3000 - p$, нийлүүлэлтийн функц $Q_S = 3p - 600$ гэж өгөгджээ. Засгийн газар бүтээгдэхүүний нэгж бүрт 400 төгрөгийн татвар оноосон бол татварын орлогыг ол.

- a. 840000 b. 720000 c. 880000 d. 600000

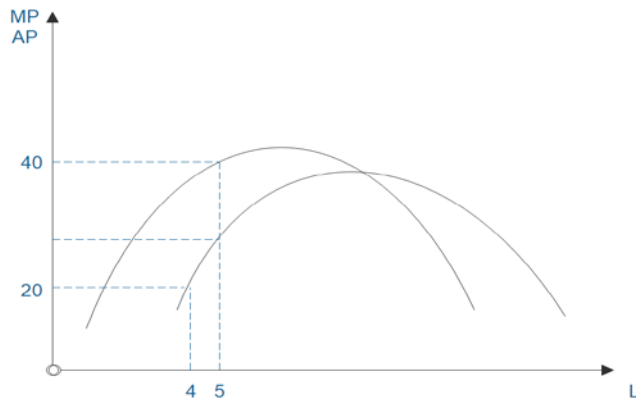
13. “Хайтан” гутлын үйлдвэрийн компанийн эдийн засагч өдөрт 10 гутал үйлдвэрлэхэд ашиглагдах орцуудын хослолыг тооцоолж хүснэгтээр харуулав.

Үйлдвэрлэлийн арга	Өдөрт үйлдвэрлэх гутлын тоо	Ажилчдын тоо	Суурь машины тоо
Бетта	10	25	7
Гамма	10	22	5
Делта	10	20	6
Епсилон	10	20	5

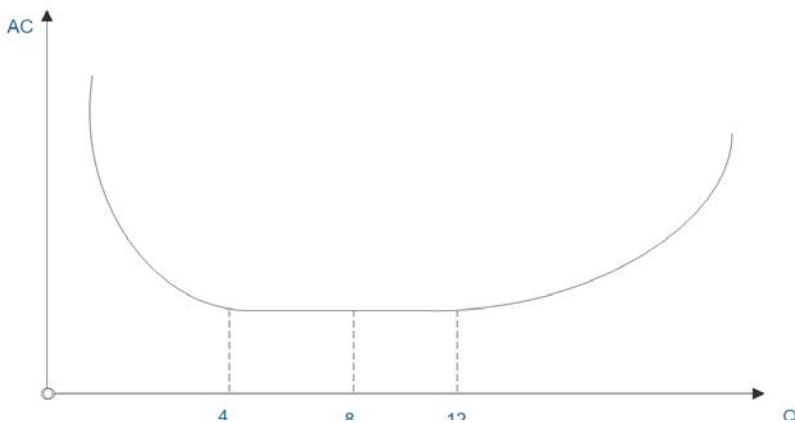
Эдийн засагч техник үр ашиг хамгийн сайн байх үйлдвэрлэлийн аргыг сонгосон бол аль аргыг сонгосон бэ?

- a. Бетта b. Гамма c. Делта d. Епсилон

14. Зураг дээрх мэдээллийг ашиглан компанийн ажилчдын тоо 5 байх үеийн нийт бүтээгдэхүүнийг олно уу

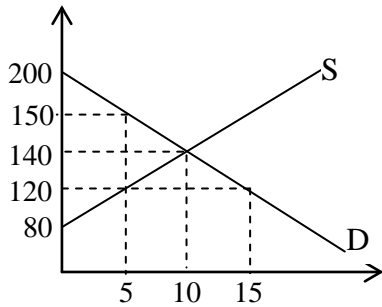


15. Хэвлэлийн үйлдвэрийн талаарх дараах өгүүлбэрийн аль нь зөв бэ?



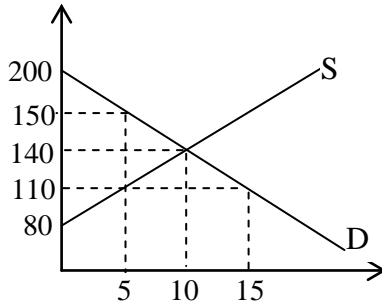
- a. 4 буюу түүнээс бага үйлдвэрлэл дээрээ өргөжилтийн өсч буй үр өгөөжтэй, илүү өндөр үйлдвэрлэл дээрээ тогтмол болон буурч буй үр өгөөжтэй байна
- b. 4 буюу түүнээс бага үйлдвэрлэл дээрээ өргөжилтийн буурч буй үр өгөөжтэй, илүү өндөр үйлдвэрлэл дээрээ тогтмол өргөжилтийн үр өгөөжтэй байна
- c. 4-8 үйлдвэрлэл дээрээ өргөжилтийн өсч буй үр өгөөжтэй, илүү өндөр үйлдвэрлэл дээрээ буурч буй үр өгөөжтэй байна
- d. 12 буюу түүнээс бага үйлдвэрлэл дээрээ өргөжилтийн өсч буй үр өгөөжтэй, илүү өндөр үйлдвэрлэл дээрээ буурч буй үр өгөөжтэй байна

16. Дараах зурагт зах зээлийн эрэлт ба нийлүүлэлт өгөгджээ. Засгийн газар үнийн доод түвшинг 150 гэж тогтоосон бол хэрэглэгчийн хожоо(consumer surplus) болон үйлдвэрлэгчийн хожоо(producer surplus) хэд вэ?



- Хэрэглэгчийнх 200, үйлдвэрлэгчийнх 50
- Хэрэглэгчийнх 125, үйлдвэрлэгчийнх 175
- Хэрэглэгчийнх 300, үйлдвэрлэгчийнх 300
- Хэрэглэгчийнх 250, үйлдвэрлэгчийнх 350

17. Дараах зурагт зах зээлийн эрэлт ба нийлүүлэлт өгөгджээ. Засгийн газар үнийндээд түвшинг 110 гэж тогтоосон бол ямар хэмжээтэй нийгмийн алдагдал(deadweight loss) үүсэх вэ?



- Нийгмийн алдагдал 75
- Нийгмийн алдагдал 100
- Нийгмийн алдагдал 150
- Нийгмийн алдагдал үүсэхгүй.

18. Засгийн газар махны үнийн өсөлтөөс сэргийлж мах нөөцлүүлдэг ба хавар нь махаа зах зээлийн тэнцвэрт үнээс доогуур үнээр худалдаалдаг. Энэ үйл явц нь

- Хэрэглэгчийн хожоог бууруулснаар нийгмийн алдагдлыг өсгөнө.
- Засгийн газрын зардлыг өсгөснөөр нийгмийн алдагдлыг өсгөнө.
- Зөвхөн үйлдвэрлэгч дангаараа хожсоноор нийгмийн алдагдал өснө.
- Үнэ өсөхгүй тул нийгмийн алдагдал үүсэхгүй.

19. Мөчлөгийн ажилгүйдэл гэдэг нь

- Урт хугацааны эдийн засгийн өсөлттэй холбоотой
- Эдийн засгийн богино хугацааны өсөлт бууралттай холбоотой
- Хэвийн ажилгүйдлийн түвшний хэлбэлзэл
- Цалингийн доод түвшний өөрчлөлт

20. Тухайн үеийн ДНБ нь

- Потенциаль ДНБ-ээс хямралынүед их байдаг
- Потенциаль ДНБ-ээс хямралынүед бага байдаг
- Дандаа потенциал ДНБ-тэй тэнцүү байдаг
- Эдийн засгийн халалттай үед потенциал ДНБ-тэй тэнцүү

21. Хүүхэд төрүүлснийхээ дараа ажиллах хүчинд эргэн орсон бөгөөд ажил харахан олоогүй байгаа эмэгтэй ямар төрлийн ажилгүйдэлд байна вэ?

- Бүтцийн
- Улирлын
- Мөчлөгийн
- Хэвийн

22. Дараахаас аль нь инфляцийн хамгийн оновчтой тодорхойлолт вэ?

- Бүтээгдэхүүн, үйлчилгээний өндөр үнэ
- Үнийн түвшний өсөлт
- Мөнгөний худалдан авах чадварын өсөлт
- Бүх бүтээгдэхүүн, үйлчилгээний үнийн зэрэг өсөлт

23. Ажиллах хүчний насны бүтцэд гарсан өөрчлөлт нь ямар төрлийн ажилгүйдэлд нөлөөлөх вэ?

- Бүтцийн
- Шилжилтийн
- Мөчлөгийн
- Дээрх бүгд

24. Инфляцийн түвшин өндөр бөгөөд хэлбэлзэл ихтэй үед аль нь ажиглагдахгүй вэ?

- Эдийн засгийн нөөцүүд бүтээмжтэй үйл ажиллагаанд биш инфляциас сэргийлэх үйл ажиллагаанд илүүтэй зарцуулагдана
- Хүмүүс үнийн өөрчлөлт нь ерөнхий инфляцийн шалтгаантай юу эсвэл эрэлт нийлүүлэлтийн шилжилтээс болсон уу гэдгийг ялгахад хэцүү болдог
- Үнийн өндөр түвшнээс ашиг олохын тулд хүмүүс урт хугацаат гэрээнүүд хийхийг хүснэ
- Нийлүүлэгчид цэс, үнийн жагсаалтаа олон дахин хэвлэхтэй холбоотой үргүй зардал гарна

25. Тухайн үеийн ажилгүйдлийн түвшинг хэвийн ажилгүйдлийн түвшинд харьцуулсан харьцаа нь 1-ээс их байгаа бол энэ эдийн засаг

- Уналттай байна
- Хэвийн байна
- Халалттай байна
- Хэлэх боломжгүй

26. Урт хугацаанд төгс өрсөлдөөнт зах зээлд үйл ажиллагаа явуулж буй пүүсийн хувьд нийлүүлэлтийн муруй нь...
- Ахиу зардлын муруй бүхэлдээ болно.
 - Дундаж нийт зардлаас дээш орших ахиу зардлын хэсэг болно.
 - Дундаж хувьсах зардлаас дээш орших ахиу зардлын хэсэг болно.
 - Дундаж хувьсах зардлын өссөн хэсэг болно.
27. Аль тохиолдолд хүнсний дэлгүүр шөнийн цагаар ажиллахгүй вэ?
- Шөнийн цагаар үйл ажиллагаа явуулахад гарах нийт зардал нь олох орлогоос их бол.
 - Шөнийн цагаар үйл ажиллагаа явуулахад гарах нийт зардал нь олох орлогоос бага бол.
 - Шөнийн цагаар үйл ажиллагаа явуулахад гарах хувьсах зардал нь олох орлогоос их бол.
 - Шөнийн цагаар үйл ажиллагаа явуулахад гарах хувьсах зардал нь олох орлогоос бага бол.
28. Дараахаас үнэ болон ахиу зардлын тухай зөв өгүүлбэрийг сонгоно уу.
- Төгс өрсөлдөөнт зах зээл болон монополь зах зээлийн хувьд үнэ нь ахиу зардалтай тэнцүү.
 - Төгс өрсөлдөөнт зах зээл болон монополь зах зээлийн хувьд үнэ нь ахиу зардлаас их.
 - Төгс өрсөлдөөнт зах зээлд үнэ нь ахиу зардалтай тэнцүү, монополь зах зээлийн үнэ нь ахиу зардлаас их.
 - Төгс өрсөлдөөнт зах зээлд үнэ нь ахиу зардлаас их, монополь зах зээлийн үнэ нь ахиу зардалтай тэнцүү.
29. Монополь зах зээлийн ахиу орлого нь ахиу зардлаас бага үед үйлдвэрлэгч ашгаа нэмэхийн тулд...
- Бүтээгдэхүүний тоог нэмэгдүүлэх хэрэгтэй.
 - Бүтээгдэхүүний тоог өөрчлөх шаардлагагүй.
 - Үнээ өсгөх хэрэгтэй.
 - Үнээ бууруулах хэрэгтэй.
30. Дараахаас аль нь монопольт өрсөлдөөнт зах зээлийн шинж биш вэ?
- Олонтооны худалдагчтай.
 - Ялгаатай бүтээгдэхүүн үйлдвэрлэнэ.
 - Урт хугацаанд эдийн засгийн ашиг тэгээс их байна.
 - Зах зээлд орох, гарах нь чөлөөтэй.
31. Монопольт өрсөлдөөнт зах зээлд ямар нөхцөлд шинээр пүүс орох вэ?
- Ахиу орлого нь ахиу зардлаас их үед.
 - Ахиу орлого нь дундаж нийт зардлаас их үед.
 - Үнэ нь ахиу орлогоос их үед.
 - Үнэ нь дундаж нийт зардлаас их үед.
32. Тоглоомын онолыг хамгийн ихээр ашиглах боломжтой зах зээлийн бүтэц нь
- Монополь зах зээл
 - Монопольт өрсөлдөөнт зах зээл
 - Олигополь зах зээл
 - Төгс өрсөлдөөнт зах зээл
33. ЖонМейнардКейнс
- Америкийнэдийнзасагчбайсан.
 - “Нийлүүлэлтэрэлтээүүсгэдэг” гэсэнСэйгийнхуульдүлитгэгчбайсан.
 - Микроэкономиксийгүндэслэгчбайсан.
 - Хөрөнгөоруулалтынөөрчлөлтэдийнзасгийнтогтвортойбайдалднөлөөтэйгэдэгтитгэдэггүйбайсан.
34. СүүлийнүедКейнсийннийтзарлагынзагварыннэрхүндбуурсанньдараах шалтгаантай.
- Сүүлийнарван таванжилдбизнесийнмөчлөгмаштогтворгүйбайсан.
 - Энэзагварньхүлээлтийгоруулсанбайдагтулнайдваргүйгэж үзсэн.
 - Инфляцибаажилгүйдэлхоёрзэрэгэндөрбайгаагтайлбарлажчадахгүйбайсан.
 - ЭрдэмтэдИххямралынгүнгүнзгийүрдагаврыгмартсан.
35. Шахангаргалтгэдэгнь
- Засгийнгазартөсвийналдагдалтайбөгөөдбондзарахүедүүсдэг
 - Засгийнгазармөнгөхэвлэхэдүүсдэг
 - Засгийнгазартөсвийнилүүдэлтэйбөгөөдбондзарахүедүүсдэг
 - Шинэажилтнуудөндөрцалинтайхуучинажилтнуудыгорлохүедүүсдэг
36. Шинэсонгодогонолоорзасгийнгазартөсвийналдагдалтайбайвал
- Нийтэрэлтийнмуруйбаруунтийшилжинэ
 - Нийтэрэлтийнмуруйзүүнтийшилжинэ
 - Нийтэрэлтийнмуруйшилжихгүй
 - Нийтнийлүүлэлтийнмуруйзүүнтийшилжинэ
37. Зарлаганьөнөөгийнорлогоосбусхаринбайнгынорлогоосхамаардаггэсэнтаамаглалаарнийтзарлагынфунк

- a. Босоошулуун
 - b. Хэвтээшулуун
 - c. 45 градусыншулуун
 - d. Эдийнзасагчидямарнэгэнюмхэлэхболомжгүй
38. Хэрэвүнийнтүвшинмашуянхатанбол
- a. Кейнсийнзагвархүчингүйболно
 - b. Кейнсийнзагварынүрдүнсрэгболно
 - c. Кейнсийнзагварынүрдүнбагазэрэгөөрчлөгдөхболовчголсанааньхэвээрбайна
 - d. Кейнсийнзагварсонгодогзагварболно
39. Ахиухэрэглэххандлагаөсвөл
- a. Хэрэглээнийфункцилүүхэвтээболно
 - b. Хадгаламжийнфункцдээшилжинэ
 - c. Хэрэглээнийфункцдээшилжинэ
 - d. Хадгаламжийнфункцилүүхэвтээболно
40. Хэрэвхэрэглээнийфункц $C=1000+0.7Y$ бататварындараахорлого 10000₮ болхадгаламж
- a. 7000
 - b. 8000
 - c. 2000
 - d. 1000
41. Дараахөгүүлбэрээсалийгньсонгодогэдийнзасагчидхэлсэнбайхмагадлалтайвэ?
- a. Зээлээрсанхүүжүүлсэнзасгийнгазрынзардлынтэллтньэдийнзасагтнийтэрэлтийгөсгөхөндөрүрашиг тайаргаюм.
 - b. Иххэмжээнийтөсвийналдагдалбодитхүүгийнтүвшингөсгөснөөрхувийнзарлага, хөрөнгөөруулалтыгбууруулдаг.
 - c. Төсвийналдагдалболонзээлийнхүүгийнхоорондямар ч холбоохамааралбайхгүй; алдагдлынхэмжээгээрхадгаламжөсдөг.
 - d. Эдийнзасагуналттайүедбүрэнажилэрхлэлтэдхүрэхийнтулдсангийнтэлэхбодлогыгхэрэгжүүлэхөстой
42. Кейнсийнонолоорсангийнтэлэхбодлогонь.....эдийнзасгийгтэнцвэртньхүргэдэг
- a. Богинохугацаанынийтнийлүүлэлтийгөсгөснөөр
 - b. Нийтэрэлтийгөсгөснөөр
 - c. Уртхугацаанынийтнийлүүлэлтийгөсгөснөөр
 - d. Нийтэрэлт, нийлүүлэлтийгальалийгөсгөснөөр
43. Машин угаалгын газар өдөрт 5 төгрөгөөр 30 машин угаадаг ба өдрийн орлого нь 150 төгрөг. Хэрэв тэд үнээ 3 төгрөг болтол буулгах үед
- a. Нийтдээ 40 машин угаалгана гэж үзвэл нийт орлого буурна.
 - b. Нийтдээ 50 машин угаалгана гэж үзвэл нийт орлого өөрчлөгдөхгүй.
 - c. Нийтдээ 60 машин угаалгана гэж үзвэл нийт орлого өснө.
 - d. Дээрх бүгд үнэн.
44. Гэнэтийн цочир хүйтрэлээс болж Сэлэнгэд байцаа тариалж байсан аж ахуйн нэгж (1) хүлээж байснаас бага хэмжээний ургац авна (2) байцааны үнэ илүү өндөр болно (3) энэ жилийн ургацын нийт орлого илүү их болно гэж дүгнэжээ. Ямар тохиолдолд дээрх бүх дүгнэлтүүд үнэнд илүү ойр болох вэ?
- a. Байцааны эрэлтийн мэдрэмж сайн
 - b. Байцааны эрэлт нэгж мэдрэмжтэй
 - c. Байцааны эрэлт мэдрэмж багатай
 - d. Байцааны орлогоос хамаарсан мэдрэмж нь сөрөг утгатай
45. Бүтээгдэхүүний зах зээлийн эрэлт нь тухайн бүтээгдэхүүний хувьд байна.
- a. Бүх хэрэглэгчийн эрэлтийн муруйн босоо тэнхлэгийн дагуух нийлбэр
 - b. Хэрэглэгчдийн эрэлттэй харьцуулахад илүү босоо хэлбэртэй
 - c. Хэрэглэгчдийн эрэлтийн дунджаар илэрхийлэгдэнэ
 - d. Өгөгдсөн үнийн түвшин бүр дэх бүх хэрэглэгчийн эрэлтийн хэмжээний нийлбэр
46. Болорын цалин 10 хувь өсөхөд гоёлын хувцас худалдан авалтаа 20 хувиар нэмэгдүүлжээ. Болорын хувьд гоёлын хувцас нь байна.
- a. Орлогын мэдрэмж 2
 - b. Тансаг бүтээгдэхүүн
 - c. Хэвийн бүтээгдэхүүн
 - d. Дээрх бүгд
47. Дасгалжуулагч Бат “Бид өөрсдийн зохион байгуулж байгаа теннисний тэмцээний орлогыг өсгөхийн тулд тасалбарын үнийг багасгах хэрэгтэй” гэж клубын ерөнхийлөгч Болорт хэлжээ. Харин Болор ерөнхийлөгч “Тасалбарын үнийг бууруулах нь сөрөг нөлөөтэй, нийт орлогыг бууруулна” гэв. Аль тохиолдолд хоёул зөв болох вэ?
- a. Бат эрэлтийг мэдрэмж сайн, Болор эрэлтийг мэдрэмж муутай гэж үзсэн
 - b. Бат эрэлтийг мэдрэмж муутай, Болор эрэлтийг мэдрэмж сайн гэж үзсэн
 - c. Бат Болор хоёулаа эрэлт мэдрэмж муутай гэж үзсэн.
 - d. Бат Болор хоёулаа эрэлт мэдрэмж сайн гэж үзсэн.

48. Эрэлтийн үнээс хамаарсан мэдрэмжийн хувьд дараах өгүүлбэрүүдийн аль нь үнэн бэ?
- Эрэлт нь ерөнхийдөө богино хугацаатай харьцуулахад урт хугацаанд илүү мэдрэмжтэй
 - Эрэлтийн шулууны дагуу баруун доош цэгэн шилжилт хийхэд мэдрэмж буурна
 - Эрэлтийн муруй илүү хэвтээ байх нь илүү мэдрэмжтэй байна
 - Дээрх бүгд зөв
49. Та АПУкомпаний 5000 ширхэг хувьцааг нэгж бүрийг нь 1000 төгрөгөөр худалдан авсан бөгөөд үйлчилгээний шимтгэл болгон 30000 төгрөг төлсөн. Тэгвэл энэхүү гүйлгээгээрээ ДНБ-д хэдэн төгрөгийн хувь нэмэр оруулсан бэ?
- 0
 - 30000
 - 5000000
 - 5030000
50. Хэрэглээний үнийн индекс 2005 онд 120 байсан ба 2006 онд 150 болсон бол 2005-2006 оны хоорондох инфляцийн түвшин хэд байх вэ?
- 10%
 - 20%
 - 25%
 - 30%
51. Дараах үйл ажиллагааны аль нь ДНБ-д нөлөөлөхийг тодорхойл:
- Байрны сарын түрээсэнд 350000төгрөг төлдөг.
 - Хуучин машин худалдаж авахад 15000000 төгрөгтөлсөн.
 - Чиний сургалтын зардалд хандив болгож 500000 төгрөгийг таны авга ах өгсөн.
 - Та байранд хамт амьдардаг ангийн хүүхэдтэйгээ хөзөр тоглоод 50000 төгрөг хожсон.
52. 2010-2019 оны хооронд нэрлэсэн ДНБ 1500 тэрбум төгрөгөөс 4500 тэрбум төгрөг хүртэл өссөн гэе. Харин хэрэглээний үнийн индекс 100-аас 150 болж өссөн бол 2019 оны бодит дотоодын нийт бүтээгдэхүүн хэд байх вэ?
- 1000 тэрбум төгрөг
 - 3000 тэрбум төгрөг
 - 2000 тэрбум төгрөг
 - 4500 тэрбум төгрөг
53. Цаг агаар таатай байсан учраас хөдөө аж ахуйн бүтээгдэхүүний гарц хоёр дахин өсөхөд
- Нийт эрэлтийн муруй баруун тийш шилжинэ
 - Нийт эрэлтийн муруй зүүн тийш шилжинэ
 - Богино хугацааны нийт нийлүүлэлтийн муруй баруун тийш шилжинэ
 - Богино хугацааны нийт нийлүүлэлтийн муруй зүүн тийш шилжинэ
54. Инфляцийн түвшин өснө гэсэн хүлээлттэй байгаа тохиолдолд
- Нийт эрэлтийн муруй баруун тийш шилжинэ
 - Богино хугацааны нийт нийлүүлэлтийн муруй зүүн тийш шилжинэ
 - Үнийн түвшин өсч, бодит ДНБ-ний хэмжээ өөрчлөгдөхгүй
 - Дээрх бүгд зөв
55. Хэрэглэгчид болон бизнес эрхлэгчдийн ирээдүйн талаарх хүлээлт өөдрөг байвал:
- Нийт эрэлтийн муруй баруун тийш шилжинэ
 - Нийт эрэлтийн муруй зүүн тийш шилжинэ
 - Богино хугацааны нийт нийлүүлэлтийн муруй баруун тийш шилжинэ
 - Богино хугацааны нийт нийлүүлэлтийн муруй зүүн тийш шилжинэ
56. Технологийн дэвшил бий болсоноор
- Нийт эрэлтийн муруй баруун тийш шилжинэ
 - Нийт эрэлтийн муруй зүүн тийш шилжинэ
 - Богино болон урт хугацааний нийт нийлүүлэлтийн муруй 2-уулаа баруун тийш шилжинэ
 - Богино болон урт хугацааний нийт нийлүүлэлтийн муруй 2-уулаа зүүн тийш шилжинэ
57. Дараахын аль нь худал вэ?
- Хэрэглээний үнийн индекс болон ДНБ-ний дефлятор нь инфляцийн нөлөөг арилгах зорилгоор ашиглагддаг
 - ДНБ-ийг өсгөх нэг арга нь хүн бүр чөлөөт цагаа багасгаж ажилдаа их цаг зарцуулах
 - Бодит үйлдвэрлэлийн өсөлт нь орлогыг өсгөснөөр хүмүүсийн амьжиргааг сайжруулдаг
 - Өндөр настны тэтгэвэр ДНБ-д тооцогддог
58. Дараах гүйлгээнүүдийн аль нь энэ жилийн ДНБ-ний тооцоонд орох вэ?
- Машин үйлдвэрлэгч компани тухайн жилийн үйлдвэрлэлдээ зориулжарван сая дугуй худалдан авч ашигласан.
 - Гурван зуун жилийн настай уран зургийг арван тэрбум төгрөгөөр худалдсан
 - Хууль бус хар тамхины наймаанаас хоёр тэрбум төгрөгийн ашиг олсон
 - Хуучин байшингаа зуун сая төгрөгөөр заруулсны шимтгэл болгон үл хөдлөх хөрөнгийн зуучид таван сая төгрөг төлсөн.
59. Шахангаргалтыннөлөөгөөртөсвийналдагдалнь
- Бодитхүүгийнтүвшингөсгөхбаирээдүйд капиталыннөөцийгбууруулна
 - Бодитхүүгийнтүвшингбууруулахбаирээдүйд капиталыннөөцийг өсгөнө
 - Ирээдүйдажилчдынбүтээмжийгөсгөнө
 - Ирээдүйдажилчдынорлогыгөсгөнө
60. Шинэсонгодогзагвараарзасгийнгазар өсч буйзардлаа өрөөрсанхүүжүүлсний нөлөө нь

- a. Өнөөгийн татварыг өсгөж санхүүжүүлсэнтэй адилхан нөлөөтэй байна
b. Нийтэрэлт болон эдийн засгийн гиххэмжээгээртэлнэ
c. Бодит хүүгийн түвшинг өсгөнө
d. Хувийн хадгаламжийг бууруулна
61. Кейнсийн онолоор сангийн тэлэх бодлого дараах тохиолдолд хамгийн их нөлөө үзүүлдэг.
a. Нийт зарлаганы түйлдвэрлэлтэй тэнцүү байхаар төлөвлөж байгаа үед
b. Эдийн засгийн халалтын үед
c. Ажилгүйдэлтэй ихтэй үед
d. Өндөр инфляцитай үед
62. Уналтын үед засгийн газрын зардлаа өсгөх нь яагаад үрдүнгүй байж болдог вэ?
a. Уналтын үед нийтэрэлт түйлдвэрлэл болон ажил эрхлэлтэнд нөлөөгүй
b. Засгийн газрын зардлын өсөлт нийтэрэлтийг гурамшуулж чаддаггүй
c. Кейнсийн онолоор хямралын үед сангийн бодлого их эвчлэн үрдүнгүй байдаг
d. Уналт нийтэрэлтийн хэмжээний асуудал биштүүний бүтэцтэй холбоотой зохицуулалтын асуудал байдаг
63. Хэрэвт татварын дараа хорлого 1000 байхад хэрэглээ 800 байсан. Татварын дараа хорлого 1300 болоход хэрэглээ 1000 болж өссөн болох их хэрэглэх хандлага хэвэ?
a. 8/10
b. 10/13
c. 2/3
d. 3/4
64. Автомат тогтворжуулагч гэдэг нь засгийн газрын дараах зорилготой хөтөлбөр хэлдэг.
a. Хууль эрх зүйн өөрчлөлтгүйгээр нийтэрэлтийн хэлбэлзлийг бууруулах
b. Хууль эрх зүйн өөрчлөлтгүйгээр орлог зарлагыг автоматаар тэнцвэржүүлэх
c. Хууль тогтоох байгууллагад хуулийн өөрчлөлт хэрэгтэй болсныг мэдэгдэх, дохио өгөх
d. Хямралын үед татварыг автоматаар нэмэгдүүлэх
65. Хэрэвт төв банк хямралыг зогсоохын тулд мөнгөний нийлүүлэлтийг нэмэгдүүлэхийг хүсэж байгааг эвэл
a. Нөөцийн нормыг бууруулна
c. Нээлттэй зах зээлд засгийн газрын бондыг худалдаална
b. Татварыг бууруулна
d. Дискаунтын хүүг өсгөнө
66. Төв банк зуун сая төгрөгийн засгийн газрын бондыг нийтэд худалдсан гэвэл энэ нь мөнгөний нийлүүлэлт болон улсын өрөнд хэрхэн нөлөөлөх вэ?
a. Мөнгөний нийлүүлэлт өснө, улсын өр буурна
b. Мөнгөний нийлүүлэлт буурна, улсын өр өснө
c. Мөнгөний нийлүүлэлт өснө, улсын өр өөрчлөгдөхгүй
d. Мөнгөний нийлүүлэлт буурна, улсын өр өөрчлөгдөхгүй
67. Монитарист онолоор аль нь хамгийн өндөр магадлалтайгаар инфляцийг гарилгах вэ?
a. Засгийн газрын зардлын өсөлтөө жилийн 3% орчимд тогтвортой барих
b. Цалин, татвар болон тэтгэврийн инфляцийн түвшинтэй индексжүүлэх
c. Бодит түйлдвэрлэлийн урт хугацааны өсөлтийн хурдаас хэтрүүлэлгүй мөнгөний нийлүүлэлтийг өсгөх
d. Төсвийн алдагдлын хэмжээг 3%-иар тогтвортой нэмэгдүүлэх
68. Эдийн засаг бүрэн ажил эрхлэлттэй үед хүлээгдээгүй мөнгөний нийлүүлэлтийн гэнэтийн өсөлт нь
a. Богино хугацаанд бодит ДНБ болон үнийн түвшинг өсгөнө, харин урт хугацаанд бодит ДНБ-ийг өөрчлөхгүй, зөвхөн үнийн түвшинг өсгөнө
b. Богино хугацаанд бодит ДНБ болон үнийн түвшинг бууруулна, харин урт хугацаанд бодит ДНБ-ийг өөрчлөхгүй, зөвхөн үнийн түвшинг бууруулна
c. Урт болон богино хугацаанд бодит ДНБ-ийг өөрчлөхгүй, харин үнийн түвшинг өсгөнө
d. Богино хугацаанд үнийн түвшинг өсгөнө, харин урт хугацаанд бодит ДНБ-ийг өсгөнө
69. Мөнгөний тооны онолыг баримталдаг сонгодог эдийн засагчид мөнгөний нийлүүлэлтийн өсөлт нь
a. Эргэлтийн хурдахь пропорционалиар өөрчлөнө гэж үздэг
b. Бодит ДНБ-ийг пропорционалиар өөрчлөнө гэж үздэг
c. Үнийн түвшинг пропорционалиар өөрчлөнө гэж үздэг
d. Эргэлтийн хурд, үнийн түвшин эсвэл бодит ДНБ-д нөлөөгүй гэж үздэг
70. Хэрэвт төв банк мөнгөний нийлүүлэлтийг гэнэт нэмэгдүүлбэл
a. Бодит хүүгийн түвшин өснө, төгрөгийн ханш чангарна
b. Бодит хүүгийн түвшин өснө, төгрөгийн ханш суларна
c. Бодит хүүгийн түвшин буурна, төгрөгийн ханш чангарна
d. Бодит хүүгийн түвшин буурна, төгрөгийн ханш суларна

Танд амжилт хүсье.